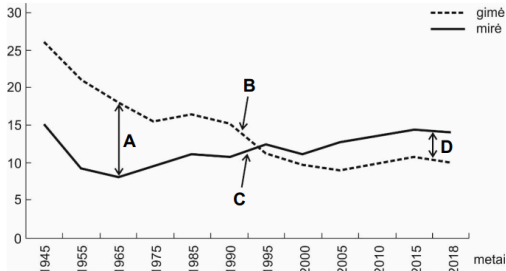


## 9 klasė. Gyventojų skaičiaus kaita. LGMA

Vardas, pavardė: \_\_\_\_\_ Klasė: \_\_\_\_\_ Data: \_\_\_\_\_

### Klausimas #1

Lietuvos gyventojų gimstamumas ir mirtingumas tūkstančiui žmonių (1945–2018 m.)



\*Kuria raide grafike pažymėtas teigiamas gyventojų prieaugis?

- B  
 D  
 A  
 C

Taškų skaičius už teisingą atsakymą: 1 Surinkta taškų: \_\_\_\_\_

### Klausimas #2

\*\*Kuriam pasaulio regionui, tiksliau, didesniai to regiono šalių skaičiui, yra būdinga antroji demografinė pakopa?

- Artimiesiems Rytams  
 Rytų Azijai  
 Užsacharės Afrikai  
 Vakarų Europai

Taškų skaičius už teisingą atsakymą: 1 Surinkta taškų: \_\_\_\_\_

### Klausimas #3

\*Kurios amžiaus grupės žmonių Lietuvoje ženkliai padaugės iki 2050 m.?

- Nuo 19 iki 65 metų amžiaus  
 Iki 18 metų amžiaus  
 Vyresni nei 65 metų amžiaus

Taškų skaičius už teisingą atsakymą: 1 Surinkta taškų: \_\_\_\_\_

### Klausimas #4

\*\*2023 m. gimstamumas Austrijoje buvo 8,6‰, o mirtingumas – 9,9‰. Apskaičiuokite natūralųjį gyventojų pokytį Austrijoje 2023 m.

- 1,1‰  
 -2,7‰  
 -1,3‰  
 0,8‰  
 1,3‰

Taškų skaičius už teisingą atsakymą: 1 Surinkta taškų: \_\_\_\_\_

### Klausimas #5



\*\*Kurie teiginiai susiję su didelio gimstamumo Indijoje pasekmėmis?

- Gyventojų neprievalgis ir bado protrūkiai
- Būstų trūkumas
- Didėjantys mokesčiai gyventojams
- Darbo jėgos trūkumas
- Didelis skurdas

Taškų skaičius už teisingą atsakymą: **1** Surinkta taškų: \_\_\_\_\_

#### Klausimas #6



\*Koks yra pagrindinis į Lietuvą atvykstančių užsienio imigrantų tikslas?

- Kelionės
- Darbas
- Šeima
- Mokslas

Taškų skaičius už teisingą atsakymą: **1** Surinkta taškų: \_\_\_\_\_

#### Klausimas #7

\*\*Kuriems pasaulio regionams būdinga ketvirtoji demografinės raidos pakopa?

- Rytų Europai ir Užsacharės Afrikai
- Artimiesiems Rytams ir Rytų Europai
- Užsacharės Afrikai ir Artimiesiems Rytams
- Pietryčių Azijai ir Lotynų Amerikai

Taškų skaičius už teisingą atsakymą: **1** Surinkta taškų: \_\_\_\_\_

#### Klausimas #8

\*Kurioje eilutėje yra išvardyti tik visuomeniniai gyventojų pasiskirstymo veiksniai?

- Demografiniai procesai, klimato palankumas, pramonės raida
- Sociališkumas, reljefas, naudingosios iškasenos
- Klimatas, demografiniai procesai, naudingosios iškasenos
- Demografiniai procesai, pramonės raida, didelė darbo vietų koncentracija

Taškų skaičius už teisingą atsakymą: 1 Surinkta taškų: \_\_\_\_\_

**Klausimas #9**

\*\*Kokių priemonių buvo imtasi Lietuvoje pradėjus vykdyti šeimos politiką, kuria siekiama skatinti gimstamumą?

- Įvestos tėvystės pašalpos ir išmokos vaikams
- Taikomos mokesčių lengvatos susilaukus vaiko
- Suteikiamas nemokamas būstas
- Suteikiama galimybė kiekvienam vaikui lankyti darželį

Taškų skaičius už teisingą atsakymą: 2 Surinkta taškų: \_\_\_\_\_

**Klausimas #10**

\*\*\*Kodėl pastaruju metu atšiauriose ir sunkiai pasiekiamose mūsų planetos teritorijose pagausėjo žmonių?

- Šiuose kraštuose imta išgauti įvairius gamtos išteklius
- Šių teritorijų klimatas tapo palankus gyventojų kūrimuisi
- Į šias teritorijas imta perkelti pabėgėlius
- Dėl žmonių gausėjimo tuose regionuose sukurta palanki gyvenimui infrastruktūra

Taškų skaičius už teisingą atsakymą: 1 Surinkta taškų: \_\_\_\_\_

**Klausimas #11**

\*\*Ekonomiškai stipriose šalyse moterų teisės yra \_\_\_\_\_ užtikrintos. Dėl didesnio dėmesio išsilavinimui, karjerai, \_\_\_\_\_ vaikų išlaikymo poros tuokiasi vis \_\_\_\_\_, moterys \_\_\_\_\_ gimdyti. To rezultatas yra \_\_\_\_\_ šeimos.

Taškų skaičius už teisingą atsakymą: 3 Surinkta taškų: \_\_\_\_\_

**Klausimas #12**

\*Kuriai amžiaus grupei priklausančių žmonių Lietuvoje šiuo metu yra daugiausia?

- Iki 18 metų amžiaus
- Nuo 19 iki 65 metų amžiaus
- Vyresnių nei 65 metų amžiaus

Taškų skaičius už teisingą atsakymą: 1 Surinkta taškų: \_\_\_\_\_

**Klausimas #13**

\*\*Daugiausia vieno asmens namų ūkių Lietuvoje yra didžiuosiuose miestuose.

- Taip
- Ne

Taškų skaičius už teisingą atsakymą: 1 Surinkta taškų: \_\_\_\_\_

**Klausimas #14**

\*Dėl kurio demografinio proceso Indija šiuo metu susiduria su daugybe socialinių bei ekonominių problemų?

- Mirtingumo
- Gimstamumo
- Emigracijos
- Imigracijos

Taškų skaičius už teisingą atsakymą: 1 Surinkta taškų: \_\_\_\_\_

#### Klausimas #15



\*\*Lietuvai imigracija yra \_\_\_\_\_, nes demografinės tendencijos lemia tai, kad darbingo amžiaus žmonių Lietuvoje \_\_\_\_\_.

Taškų skaičius už teisingą atsakymą: 2 Surinkta taškų: \_\_\_\_\_

#### Klausimas #16

\*\*Kuriems pasaulio regionams yra būdinga pirmoji demografinė pakopa?

- Vakarų Europai ir Pietryčių Azijai
- Rytų Azijai ir Šiaurės Afrikai
- Lotynų Amerikai ir Okeanijai
- Nė viena šalis nėra pirmojoje demografinėje pakopoje

Taškų skaičius už teisingą atsakymą: 1 Surinkta taškų: \_\_\_\_\_

#### Klausimas #17



\*\*Kokios yra mažo gimstamumo Lietuvoje priežastys?

- Brangu išlaikyti vaikus
- Sunku suderinti vaikų priežiūrą ir karjerą
- Mažėjantys darbo užmokesčiai
- Vaikų priežiūros įstaigų trūkumas
- Žemas medicinos lygis

Taškų skaičius už teisingą atsakymą: 3 Surinkta taškų: \_\_\_\_\_

#### Klausimas #18

\*\*Atsakykite į klausimus apie tai, kokią įtaką darbingo amžiaus žmonių mažėjimas Lietuvoje ateityje darys valstybės ekonomikai?



1. Vis labiau daugės darbo jėgos.  taip  ne
2. Augs mokesčiai darbingo amžiaus žmonėms.  taip  ne
3. Vieną pensininką išlaikys vis daugiau mokesčių mokėtojų.  taip  ne
4. Gali ilgėti pensinis amžius.  taip  ne

Taškų skaičius už teisingą atsakymą: 4 Surinkta taškų: \_\_\_\_\_

#### Klausimas #19

---



\*Kas yra depopuliacija?

- Staigus mirtingumo padidėjimas
- Tautinės gyventojų įvairovės mažėjimas
- Gyventojų skaičiaus mažėjimas
- Imigrantų skaičiaus mažėjimas

Taškų skaičius už teisingą atsakymą: 1 Surinkta taškų: \_\_\_\_\_

#### Klausimas #20

---



\*Kuo didesnis aukštis virš jūros lygio, tuo yra tankiau gyvenama.

- Ne
- Taip

Taškų skaičius už teisingą atsakymą: 1 Surinkta taškų: \_\_\_\_\_

#### Klausimas #21

---



\*Ką vaizduoja demografinės raidos modelis?

- Gyventojų mirtingumo kaitos dėsniumus
- Gyventojų skaičiaus kaitos dėsniumus
- Imigracijos ir emigracijos kaitos dėsniumus
- ŽSRI kaitos dėsniumus

Taškų skaičius už teisingą atsakymą: **1** Surinkta taškų: \_\_\_\_\_

#### Klausimas #22



\*\*Kaip kiekvienas iš žemiau pateiktų veikslių gali prisidėti prie gyventojų skaičiaus augimo Etiopijoje lėtinimo?

- 1 Kova su skurdu - ... \_\_\_\_\_ ... esamų atžalų pakaktų tėvams senatvėje prižiūrėti.
- 2 Vaikų mirtingumo mažinimas - ... \_\_\_\_\_ ... sumažėtų poreikis gimdyti taip daug vaikų kaip darbo jėgos.
- 3 Raštingumo didinimas ir moterų teisių stiprinimas - ... \_\_\_\_\_ ... moterys būtų įtrauktos į visuomenę ir būtų labiau apsišvietusios.
- 4 Apsaugos priemonių platinimas - ... \_\_\_\_\_ ... sumažėtų neplanuotų nėštumų skaičius.

Taškų skaičius už teisingą atsakymą: **4** Surinkta taškų: \_\_\_\_\_

#### Klausimas #23

\*\*\*Kiek vidutiniškai vienai moteriai Lietuvoje tenka gimdymų per visą gyvenimą?

- 3,7
- 0,4
- 4,2
- 1,23

Taškų skaičius už teisingą atsakymą: **1** Surinkta taškų: \_\_\_\_\_

#### Klausimas #24

\*\*2022 m. Prancūzijoje gimė 683 000 vaikų, o mirė 667 000 žmonių. Tais pačiais metais Lenkijoje gimė 305 000 vaikų, o mirė 409 000 žmonių. Kurios valstybės natūralusis gyventojų pokytis 2022 m. buvo didesnis?

- Abu vienodi
- Prancūzijos
- Lenkijos

Taškų skaičius už teisingą atsakymą: **1** Surinkta taškų: \_\_\_\_\_

#### Klausimas #25

\*\*Atsakykite į klausimus apie augančius ir tuštėjančius Lietuvos regionus.

1. Augančiuose regionuose darosi sunkiau įpirkti būstą.  taip  ne
2. Retai apgyvendinti regionai gali vėl suklestėti, jei bus imtasi pokyčių teritorijų planavimo strategijoje.  taip  ne

3. Tuštėjantys regionai jaunėja, o augantys – senėja.

taip  ne

4. Pagrindinė augančių ir tuštėjančių Lietuvos regionų priežastis yra vidinė migracija.

taip  ne

Taškų skaičius už teisingą atsakymą: 4 Surinkta taškų: \_\_\_\_\_

#### Klausimas #26



\*\*\*Kokios priemonės gali padėti sumažinti gimstamumą ekonomiškai besivystančiose šalyse?

- Moterų švietimas
- Investavimas į mediciną
- Kontraceptinių priemonių naudojimo skatinimas
- Demografinės politikos įvedimas
- Mokesčių mažinimas

Taškų skaičius už teisingą atsakymą: 3 Surinkta taškų: \_\_\_\_\_

#### Klausimas #27

\*\*Dėl kokios priežasties nesutampa mokslininkų pateikiamos gyventojų skaičiaus prognozės 2050 metams?

- Mokslininkai prognozėms sudaryti naudoja skirtingus skaičiavimo būdus
- Bet koks ilgalaikis prognozavimas neturi pagrindo
- Pasulyje sparčiai auga mirtingumas
- Nėra vieningai sutariama, kaip ateityje keisis gimstamumas

Taškų skaičius už teisingą atsakymą: 1 Surinkta taškų: \_\_\_\_\_

#### Klausimas #28

\*Kuri iš šių priežasčių nėra mažavaikės šeimos kūrimosi priežastis?

- Daug vaikų trukdo moterų profesinei karjerai
- Vaikų išlaikymas brangiai kainuoja
- Moterys turi visas galimybes gauti išsilavinimą
- Vaikai padeda tėvams senatvėje

Taškų skaičius už teisingą atsakymą: 1 Surinkta taškų: \_\_\_\_\_

#### Klausimas #29



\*Kiek šiuo metu (2024 m.) pasaulyje yra gyventojų?

- 7,5 mlrd.  
 7 mlrd.  
 7,8 mlrd.  
 8,1 mlrd.

Taškų skaičius už teisingą atsakymą: 1 Surinkta taškų: \_\_\_\_\_

### Klausimas #30

\*Kuriems pasaulio regionams būdinga penktoji demografinės raidos pakopa?

- Užsacharės Afrikai ir Rytų Europai  
 Pietų Azijai ir Šiaurės Amerikai  
 Lotynų Amerikai ir Užsacharės Afrikai  
 Rytų Europai ir kai kurioms Rytų Azijos šalims

Taškų skaičius už teisingą atsakymą: 1 Surinkta taškų: \_\_\_\_\_

### Klausimas #31

\*\*Sparčiam Indijos gyventojų skaičiaus augimui didžiausią įtaką daro per pastaruosius kelis dešimtmečius sumažėjęs \_\_\_\_\_. Jį padėjo sumažinti gerinamos \_\_\_\_\_ sąlygos, sveikatos apsaugos sistemos plėtra ir geresnis gyventojų aprūpinimas \_\_\_\_\_.

Taškų skaičius už teisingą atsakymą: 3 Surinkta taškų: \_\_\_\_\_


### Klausimas #32

\*Dėl kokios esminės priežasties 2022 m. Lietuvoje gyventojų skaičius šiek tiek padidėjo?

- Daug užsienio lietuvių grįžo atgal į Lietuvą  
 Dėl darbo į Lietuvą atvyko daug imigrantų  
 Tais metais ženkliai išaugo gimstamumas  
 Į Lietuvą atvyko daug pabėgėlių iš Ukrainos

Taškų skaičius už teisingą atsakymą: 1 Surinkta taškų: \_\_\_\_\_

### Klausimas #33



\*Nuo kokių dviejų teisingai įvardytų grupių veiksmų priklauso gyventojų pasiskirstymas Žemėje?

- Klimatinių ir visuomeninių  
 Istorinių ir visuomeninių  
 Gamtinių ir visuomeninių  
 Gamtinių ir politinių

Taškų skaičius už teisingą atsakymą: 1 Surinkta taškų: \_\_\_\_\_

### Klausimas #34

\*\*\*Priskirkite kiekvienai demografiniai pakopai jai tinkamą požymį.

- |                           |  |
|---------------------------|--|
| 1 Pirmoji pakopa - ...    | _____ ... sparčiai mažėjantis gimstamumas ir lėtai mažėjantis mirtingumas. |
| 2 Antroji pakopa - ...    | _____ ... didelis gimstamumas ir mirtingumas.                              |
| 3 Trečioji pakopa - ...   | _____ ... mažas ir gimstamumas, ir mirtingumas.                            |
| 4 Ketvirtoji pakopa - ... | _____ ... lėtai mažėjantis gimstamumas ir sparčiai mažėjantis mirtingumas. |
| 5 Penktoji pakopa - ...   | _____ ... gimstamumas yra mažesnis už mirtingumą.                          |

Taškų skaičius už teisingą atsakymą: 5 Surinkta taškų: \_\_\_\_\_

#### Klausimas #35

\*\*Kuriuose Lietuvos regionuose gyventojų daugėja?

- Didmiesčiuose ir pasienio savivaldybėse  
 Sostinėje ir kai kuriose savivaldybėse  
 Šiaurinėse ir pietinėse savivaldybėse  
 Sostinėje ir pietinėse savivaldybėse

Taškų skaičius už teisingą atsakymą: 1 Surinkta taškų: \_\_\_\_\_

#### Klausimas #36

\*\*Dėl kokių priežasčių Indijoje tėvai labiau geidžia susilaukti berniuko, o ne mergaitės?

- Mokslas mergaitėms brangiau kainuoja  
 Tik sūnūs gali atlikti laidotuvių apeigas  
 Ištekinti dukras brangiai kainuoja  
 To priežastis nėra paaiškinta  
 Po vestuvių dukros persikelia gyventi į vyrų šeimas

Taškų skaičius už teisingą atsakymą: 3 Surinkta taškų: \_\_\_\_\_

#### Klausimas #37

\*\*Kurie iš šių veiksnių sukelia gyventojų demografinį senėjimą?

- Didėjantis mirtingumas  
 Kylanti gyvenimo gerovė  
 Medicinos pažanga ir prieinamumas  
 Stabilus natūralusis gyventojų pokytis  
 Mokesčių didinimas  
 Mažėjantis gimstamumas

Taškų skaičius už teisingą atsakymą: 3 Surinkta taškų: \_\_\_\_\_

#### Klausimas #38

\*\*Atsakykite į klausimus apie Indijos demografiją.

- |   |   |
|---|---|
| 1. Nuo 2000 m. Indijoje yra vykdoma vieno vaiko šeimos politika.                          | <input type="radio"/> taip <input type="radio"/> ne |
| 2. Indijoje vaikų yra daugiau nei pensinio amžiaus žmonių.                                | <input type="radio"/> taip <input type="radio"/> ne |
| 3. Gimstamumas Indijoje mažėja pamažu, nes vaikai šeimoms yra reikalingi kaip darbo jėga. | <input type="radio"/> taip <input type="radio"/> ne |
| 4. Vidutinė tikėtina gyvenimo trukmė Indijoje nuo XX a. vidurio sumažėjo.                 | <input type="radio"/> taip <input type="radio"/> ne |

Taškų skaičius už teisingą atsakymą: 4 Surinkta taškų: \_\_\_\_\_

#### Klausimas #39





\*Sparčiausiai pasaulyje gyventojų daugėja ekonomiškai besivystančiose šalyse.

- Taip  
 Ne

Taškų skaičius už teisingą atsakymą: 1 Surinkta taškų: \_\_\_\_\_

#### Klausimas #40



\*\*Kuriuose pasaulio regionuose gyventojų tankis yra didžiausias?

- Pietų Afrikoje  
 Rytų Azijoje  
 Gvinėjos įlankos šalyse  
 Centrinėje Amerikoje  
 Pietų Azijoje

Taškų skaičius už teisingą atsakymą: 3 Surinkta taškų: \_\_\_\_\_

#### Klausimas #41



\*Kuriuose iš šių šalių gimstamumas yra labai didelis?

- Italijoje  
 Angoloje  
 Malyje



- JAV  
 Šveicarijoje  
 Nigerijoje

Taškų skaičius už teisingą atsakymą: 3 Surinkta taškų: \_\_\_\_\_

#### Klausimas #42

\*\*Kokiomis priemonėmis įgyvendinama valstybių demografinė politika?

- Saugant papročius ir tradicijas  
 Saugant materialines vertybes  
 Reguluojant gyventojų skaičių ir migraciją  
 Išlaikant administracinį vientisumą

Taškų skaičius už teisingą atsakymą: 1 Surinkta taškų: \_\_\_\_\_

#### Klausimas #43

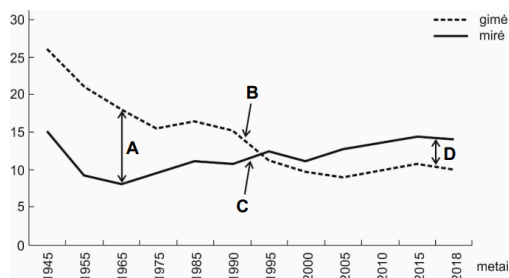
\*\*\*2022 m. Australijoje gimė 300 684 vaikai. Apskaičiuokite tų metų gimstamumą (Australijos gyventojų skaičius 26,01 mln.).

- 0,01‰  
 86,5‰  
 11,6‰  
 0,09‰

Taškų skaičius už teisingą atsakymą: 1 Surinkta taškų: \_\_\_\_\_

#### Klausimas #44

Lietuvos gyventojų gimstamumas ir mirtingumas tūkstančiui žmonių (1945–2018 m.)



\*Kuria raide grafike pažymėtas neigiamas gyventojų prieaugis?

- D  
 C  
 B  
 A

Taškų skaičius už teisingą atsakymą: 1 Surinkta taškų: \_\_\_\_\_

#### Klausimas #45



\*Kuriame pasaulio regione gyvena didžiausia planetos žmonių dalis?

- Vakarų Europoje

- Pietų Amerikoje
- Azijoje
- Užsacharės Afrikoje

Taškų skaičius už teisingą atsakymą: **1** Surinkta taškų: \_\_\_\_\_

#### Klausimas #46



\*Kokios yra pagrindinės Lietuvos gyventojų demografinio senėjimo priežastys?

- Mažėjantis gimstamumas ir didėjantis mirtingumas
- Ilgėjanti vidutinė tikėtina gyvenimo trukmė ir mažėjanti imigracija
- Mažėjantis gimstamumas ir ilgėjanti vidutinė tikėtina gyvenimo trukmė
- Didėjanti emigracija ir mažėjanti imigracija

Taškų skaičius už teisingą atsakymą: **1** Surinkta taškų: \_\_\_\_\_

#### Klausimas #47



\*Koks ryšys tarp pasaulio gyventojų pasikirstymo ir atstumo nuo jūrų ir vandenynų?

- Tolstant nuo jūros ar vandenyno, gyventojų tankis nesikeičia
- Atstumas nuo jūros ir vandenyno neturi poveikio gyventojų tankiui
- Tolstant nuo jūros ar vandenyno, gyventojų tankis didėja
- Tolstant nuo jūros ar vandenyno, gyventojų tankis mažėja

Taškų skaičius už teisingą atsakymą: **1** Surinkta taškų: \_\_\_\_\_

#### Klausimas #48

\*\*Kuriems dviem pasaulio regionams yra būdinga trečioji demografinė pakopa?

- Rytų Azijai ir Rytų Europai
- Lotynų Amerikai ir Okeanijai
- Vidurio Azijai ir Vakarų Europai
- Šiaurės ir Pietų Afrikai

Taškų skaičius už teisingą atsakymą: **1** Surinkta taškų: \_\_\_\_\_

**Klausimas #49**

---



\*\*Kokios esminės informacijos suteikia šis dalies Europos palydovinis vaizdas?

- Apie automobilių kiekį regionuose
- Apie Europos reljefą
- Apie gyventojų pasiskirstymą
- Apie oro uostų pasiskirstymą

*Taškų skaičius už teisingą atsakymą: 1 Surinkta taškų: \_\_\_\_\_*

**Klausimas #50**

---

\*Kiek yra pakopų demografinės raidos modelyje?

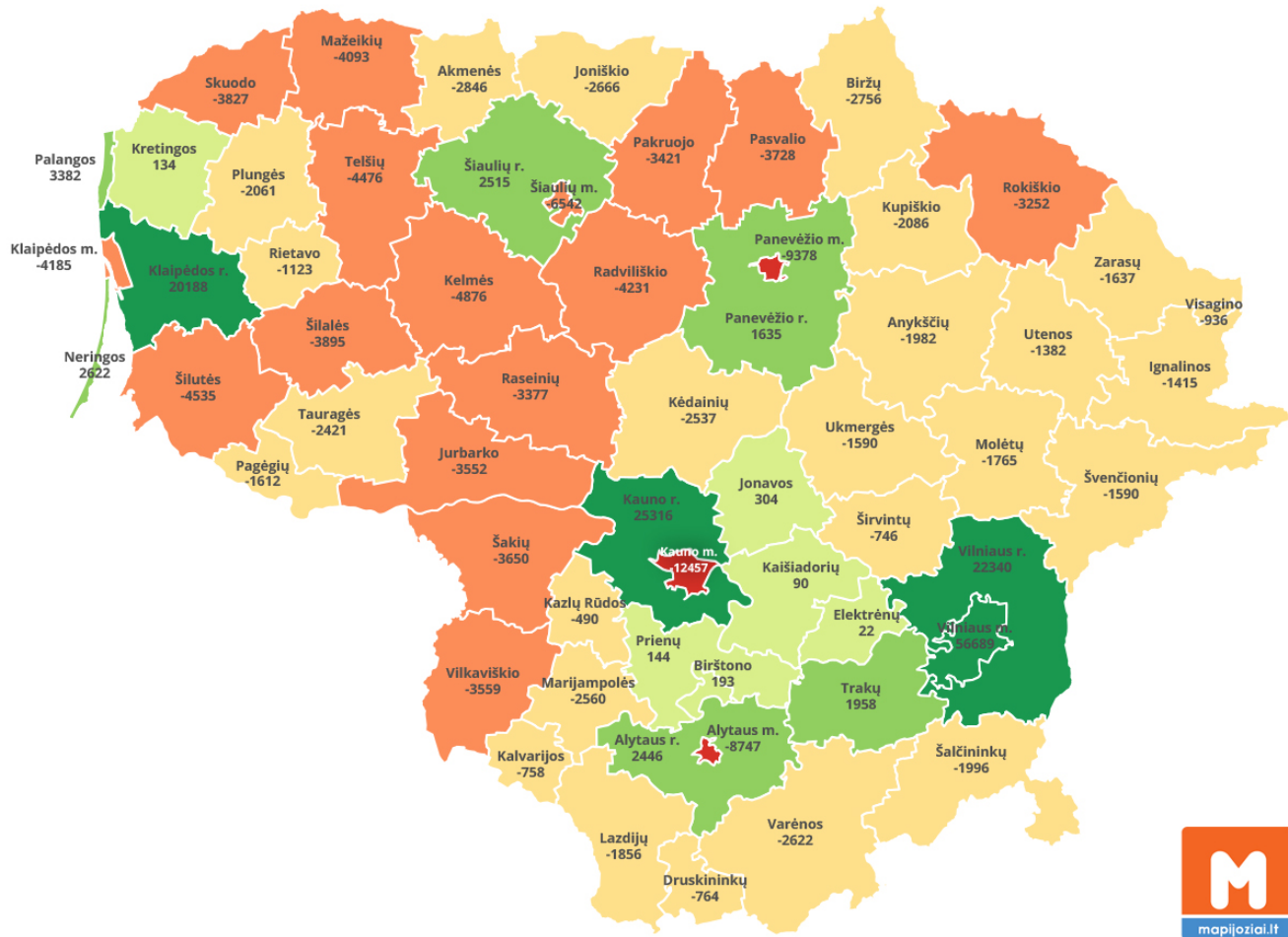
- 5
- 7
- 8
- 4
- 3

*Taškų skaičius už teisingą atsakymą: 1 Surinkta taškų: \_\_\_\_\_*

**Klausimas #51**

---

## Vidaus migracijos balansas savivaldybėse 2001-2020 m.



\*Remdamiesi pateiktu žemėlapiu nustatykite, kurios Lietuvos savivaldybės yra tuštėjančios.

- Šiaulių rajono
- Šilutės rajono
- Plungės rajono
- Jonavos rajono
- Trakų rajono
- Anykščių rajono

Taškų skaičius už teisingą atsakymą: 3 Surinkta taškų: \_\_\_\_\_

### Klausimas #52



\*Koks procesas apibūdinamas pasakymu demografinis sprogimas?

- Staigus ir spartus gyventojų skaičiaus mažėjimas
- Staigus imigrantų antplūdis į daugelį šalių
- Didelis skirtumas tarp vaikų ir senyvo amžiaus gyventojų dalies
- Staigus ir spartus gyventojų skaičiaus augimas

*Taškų skaičius už teisingą atsakymą: 1* Surinkta taškų: \_\_\_\_\_

**Maksimalus taškų skaičius: 88**

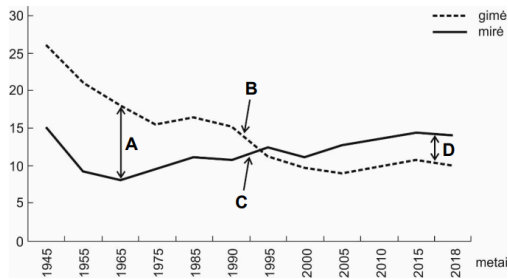
**Surinkta taškų:** \_\_\_\_\_

**Pažymys:** \_\_\_\_\_

## 9 klasė. Gyventojų skaičiaus kaita. LGMA - ATSAKYMAI

### Klausimas #1

Lietuvos gyventojų gimstamumas ir mirtingumas tūkstančiui žmonių (1945–2018 m.)



\*Kuria raide grafike pažymėtas teigiamas gyventojų prieaugis?

- B  
 D  
 A  
 C

Taškų skaičius už teisingą atsakymą: 1

### Klausimas #2

\*\*Kuriam pasaulio regionui, tiksliau, didesniai to regiono šalių skaičiui, yra būdinga antroji demografinė pakopa?

- Artimiesiems Rytams  
 Rytų Azijai  
 Užsacharės Afrikai  
 Vakarų Europai

Taškų skaičius už teisingą atsakymą: 1

### Klausimas #3

\*Kuriuos amžiaus grupės žmonių Lietuvoje ženkliai padaugės iki 2050 m.?

- Nuo 19 iki 65 metų amžiaus  
 Iki 18 metų amžiaus  
 Vyresni nei 65 metų amžiaus

Taškų skaičius už teisingą atsakymą: 1

### Klausimas #4

\*\*2023 m. gimstamumas Austrijoje buvo 8,6‰, o mirtingumas – 9,9‰. Apskaičiuokite natūralųjį gyventojų pokytį Austrijoje 2023 m.

- 1,1‰  
 -2,7‰  
 -1,3‰  
 0,8‰  
 1,3‰

Taškų skaičius už teisingą atsakymą: 1

### Klausimas #5





\*\*Kurie teiginiai susiję su didelio gimstamumo Indijoje pasekmėmis?

- Gyventojų neprievalgis ir bado protrūkiai
- Būstų trūkumas
- Didėjantys mokesčiai gyventojams
- Darbo jėgos trūkumas
- Didelis skurdas

*Taškų skaičius už teisingą atsakymą: 1*

#### Klausimas #6



\*Koks yra pagrindinis į Lietuvą atvykstančių užsienio imigrantų tikslas?

- Kelionės
- Darbas
- Šeima
- Mokslas

*Taškų skaičius už teisingą atsakymą: 1*

#### Klausimas #7

\*\*Kuriems pasaulio regionams būdinga ketvirtoji demografinės raidos pakopa?

- Rytų Europai ir Užsacharės Afrikai
- Artimiesiems Rytams ir Rytų Europai
- Užsacharės Afrikai ir Artimiesiems Rytams
- Pietryčių Azijai ir Lotynų Amerikai

*Taškų skaičius už teisingą atsakymą: 1*

#### Klausimas #8

\*Kurioje eilutėje yra išvardyti tik visuomeniniai gyventojų pasiskirstymo veiksniai?

- Demografiniai procesai, klimato palankumas, pramonės raida
- Sociališkumas, reljefas, naudingosios iškasenos
- Klimatas, demografiniai procesai, naudingosios iškasenos
- Demografiniai procesai, pramonės raida, didelė darbo vietų koncentracija

**Klausimas #9**

\*\*Kokių priemonių buvo imtasi Lietuvoje pradėjus vykdyti šeimos politiką, kuria siekiama skatinti gimstamumą?

- Įvestos tėvystės pašalpos ir išmokos vaikams
- Taikomos mokesčių lengvatos susilaukus vaiko
- Suteikiamas nemokamas būstas
- Suteikiama galimybė kiekvienam vaikui lankyti darželį

Taškų skaičius už teisingą atsakymą: 2

**Klausimas #10**

\*\*\*Kodėl pastaruju metu atšiauriose ir sunkiai pasiekiamose mūsų planetos teritorijose pagausėjo žmonių?

- Šiuose kraštuose imta išgauti įvairius gamtos išteklius
- Šių teritorijų klimatas tapo palankus gyventojų kūrimuisi
- Į šias teritorijas imta perkelti pabėgėlius
- Dėl žmonių gausėjimo tuose regionuose sukurta palanki gyvenimui infrastruktūra

Taškų skaičius už teisingą atsakymą: 1

**Klausimas #11**

\*\*Ekonomiškai stipriose šalyse moterų teisės yra **labiau <i>** užtikrintos. Dėl didesnio dėmesio išsilavinimui, karjerai, **brangstančio** vaikų išlaikymo poros tuokiasi vis **vėliau <i>ar**, moterys **neskuba <** gimdyti. To rezultatas yra **mažavaikės <** šeimos.

Taškų skaičius už teisingą atsakymą: 3

**Klausimas #12**

\*Kuriai amžiaus grupei priklausančių žmonių Lietuvoje šiuo metu yra daugiausia?

- Iki 18 metų amžiaus
- Nuo 19 iki 65 metų amžiaus
- Vyresnių nei 65 metų amžiaus

Taškų skaičius už teisingą atsakymą: 1

**Klausimas #13**

\*\*Daugiausia vieno asmens namų ūkių Lietuvoje yra didžiuosiuose miestuose.

- Taip
- Ne

Taškų skaičius už teisingą atsakymą: 1

**Klausimas #14**

\*Dėl kurio demografinio proceso Indija šiuo metu susiduria su daugybe socialinių bei ekonominių problemų?

- Mirtingumo
- Gimstamumo
- Emigracijos
- Imigracijos

Taškų skaičius už teisingą atsakymą: 1

#### Klausimas #15

---



\*\*Lietuvai imigracija yra svarbi, nes demografinės tendencijos lemia tai, kad darbingo amžiaus žmonių Lietuvoje mažėja.

Taškų skaičius už teisingą atsakymą: 2

#### Klausimas #16

---

\*\*Kuriems pasaulio regionams yra būdinga pirmoji demografinė pakopa?

- Vakarų Europai ir Pietryčių Azijai
- Rytų Azijai ir Šiaurės Afrikai
- Lotynų Amerikai ir Okeanijai
- Nė viena šalis nėra pirmojoje demografinėje pakopoje

Taškų skaičius už teisingą atsakymą: 1

#### Klausimas #17

---



\*\*Kokios yra mažo gimstamumo Lietuvoje priežastys?

- Brangu išlaikyti vaikus
- Sunku suderinti vaikų priežiūrą ir karjerą
- Mažėjantys darbo užmokesčiai
- Vaikų priežiūros įstaigų trūkumas
- Žemas medicinos lygis

Taškų skaičius už teisingą atsakymą: 3

#### Klausimas #18

---

\*\*Atsakykite į klausimus apie tai, kokią įtaką darbingo amžiaus žmonių mažėjimas Lietuvoje ateiityje darys valstybės ekonomikai?

1. Vis labiau daugės darbo jėgos.  taip  ne
2. Augs mokesčiai darbingo amžiaus žmonėms.  taip  ne
3. Vieną pensininką išlaikys vis daugiau mokesčių mokėtojų.  taip  ne
4. Gali ilgėti pensinis amžius.  taip  ne

Taškų skaičius už teisingą atsakymą: 4

#### Klausimas #19



\*Kas yra depopuliacija?

- Staigus mirtingumo padidėjimas
- Tautinės gyventojų įvairovės mažėjimas
- Gyventojų skaičiaus mažėjimas
- Imigrantų skaičiaus mažėjimas

Taškų skaičius už teisingą atsakymą: 1

#### Klausimas #20



\*Kuo didesnis aukštis virš jūros lygio, tuo yra tankiau gyvenama.

- Ne
- Taip

Taškų skaičius už teisingą atsakymą: 1

#### Klausimas #21



\*Ką vaizduoja demografinės raidos modelis?

- Gyventojų mirtingumo kaitos dėsniumus
- Gyventojų skaičiaus kaitos dėsniumus
- Imigracijos ir emigracijos kaitos dėsniumus
- ŽSRI kaitos dėsniumus

Taškų skaičius už teisingą atsakymą: 1

#### Klausimas #22



\*\*Kaip kiekvienas iš žemiau pateiktų veikslių gali prisidėti prie gyventojų skaičiaus augimo Etiopijoje lėtinimo?

- |   |  |
|---|--|
| 1 Kova su skurdu - ...                                    | <u>2</u> ... esamų atžalų pakaktų tėvams senatvėje prižiūrėti.                 |
| 2 Vaikų mirtingumo mažinimas - ...                        | <u>1</u> ... sumažėtų poreikis gimdyti taip daug vaikų kaip darbo jėgos.       |
| 3 Raštingumo didinimas ir moterų teisių stiprinimas - ... | <u>3</u> ... moterys būtų įtrauktos į visuomenę ir būtų labiau apsišvietusios. |
| 4 Apsaugos priemonių platinimas - ...                     | <u>4</u> ... sumažėtų neplanuotų nėštumų skaičius.                             |

Taškų skaičius už teisingą atsakymą: 4

#### Klausimas #23

\*\*\*Kiek vidutiniškai vienai moteriai Lietuvoje tenka gimdymų per visą gyvenimą?

- 3,7
- 0,4
- 4,2
- 1,23

Taškų skaičius už teisingą atsakymą: 1

#### Klausimas #24

\*\*2022 m. Prancūzijoje gimė 683 000 vaikų, o mirė 667 000 žmonių. Tais pačiais metais Lenkijoje gimė 305 000 vaikų, o mirė 409 000 žmonių. Kurios valstybės natūralusis gyventojų pokytis 2022 m. buvo didesnis?

- Abu vienodi
- Prancūzijos
- Lenkijos

Taškų skaičius už teisingą atsakymą: 1

#### Klausimas #25

\*\*Atsakykite į klausimus apie augančius ir tuštėjančius Lietuvos regionus.

1. Augančiuose regionuose darosi sunkiau įpirkti būstą.  taip  ne
2. Retai apgyvendinti regionai gali vėl suklestėti, jei bus imtasi pokyčių teritorijų planavimo strategijoje.  taip  ne



3. Tuštėjantys regionai jaunėja, o augantys – senėja.

taip  ne

4. Pagrindinė augančių ir tuštėjančių Lietuvos regionų priežastis yra vidinė migracija.

taip  ne

Taškų skaičius už teisingą atsakymą: 4

#### Klausimas #26



\*\*\*Kokios priemonės gali padėti sumažinti gimstamumą ekonomiškai besivystančiose šalyse?

- Moterų švietimas
- Investavimas į mediciną
- Kontraceptinių priemonių naudojimo skatinimas
- Demografinės politikos įvedimas
- Mokesčių mažinimas

Taškų skaičius už teisingą atsakymą: 3

#### Klausimas #27

\*\*Dėl kokios priežasties nesutampa mokslininkų pateikiamos gyventojų skaičiaus prognozės 2050 metams?

- Mokslininkai prognozėms sudaryti naudoja skirtingus skaičiavimo būdus
- Bet koks ilgalaikis prognozavimas neturi pagrindo
- Pasulyje sparčiai auga mirtingumas
- Nėra vieningai sutariama, kaip ateityje keisis gimstamumas

Taškų skaičius už teisingą atsakymą: 1

#### Klausimas #28

\*Kuri iš šių priežasčių nėra mažavaikės šeimos kūrimosi priežastis?

- Daug vaikų trukdo moterų profesinei karjerai
- Vaikų išlaikymas brangiai kainuoja
- Moterys turi visas galimybes gauti išsilavinimą
- Vaikai padeda tėvams senatvėje

Taškų skaičius už teisingą atsakymą: 1

#### Klausimas #29





\*Kiek šiuo metu (2024 m.) pasaulyje yra gyventojų?

- 7,5 mlrd.
- 7 mlrd.
- 7,8 mlrd.
- 8,1 mlrd.

Taškų skaičius už teisingą atsakymą: 1

#### Klausimas #30

---

\*Kuriems pasaulio regionams būdinga penktoji demografinės raidos pakopa?

- Užsacharės Afrikai ir Rytų Europai
- Pietų Azijai ir Šiaurės Amerikai
- Lotynų Amerikai ir Užsacharės Afrikai
- Rytų Europai ir kai kurioms Rytų Azijos šalims

Taškų skaičius už teisingą atsakymą: 1

#### Klausimas #31

---

\*\*Sparčiam Indijos gyventojų skaičiaus augimui didžiausią įtaką daro per pastaruosius kelis dešimtmečius sumažėjęs mirtingum. Jį padėjo sumažinti gerinamos higienos sąlygos, sveikatos apsaugos sistemos plėtra ir geresnis gyventojų aprūpinimas maistu.

Taškų skaičius už teisingą atsakymą: 3

#### Klausimas #32

---

\*Dėl kokios esminės priežasties 2022 m. Lietuvoje gyventojų skaičius šiek tiek padidėjo?

- Daug užsienio lietuvių grįžo atgal į Lietuvą
- Dėl darbo į Lietuvą atvyko daug imigrantų
- Tais metais ženkliai išaugo gimstamumas
- Į Lietuvą atvyko daug pabėgėlių iš Ukrainos

Taškų skaičius už teisingą atsakymą: 1

#### Klausimas #33

---



\*Nuo kokių dviejų teisingai įvardytų grupių veiksmų priklauso gyventojų pasiskirstymas Žemėje?

- Klimatinių ir visuomeninių
- Istorinių ir visuomeninių
- Gamtinių ir visuomeninių
- Gamtinių ir politinių

Taškų skaičius už teisingą atsakymą: 1

#### Klausimas #34

---

\*\*\*Priskirkite kiekvienai demografiniai pakopai jai tinkamą požymį.

- |                           |   |
|---------------------------|---|
| 1 Pirmoji pakopa - ...    | <u>3</u> ... sparčiai mažėjantis gimstamumas ir lėtai mažėjantis mirtingumas. |
| 2 Antroji pakopa - ...    | <u>1</u> ... didelis gimstamumas ir mirtingumas.                              |
| 3 Trečioji pakopa - ...   | <u>4</u> ... mažas ir gimstamumas, ir mirtingumas.                            |
| 4 Ketvirtoji pakopa - ... | <u>2</u> ... lėtai mažėjantis gimstamumas ir sparčiai mažėjantis mirtingumas. |
| 5 Penktoji pakopa - ...   | <u>5</u> ... gimstamumas yra mažesnis už mirtingumą.                          |

Taškų skaičius už teisingą atsakymą: 5

#### Klausimas #35

\*\*Kuriuose Lietuvos regionuose gyventojų daugėja?

- Didmiesčiuose ir pasienio savivaldybėse  
 Sostinėje ir kai kuriose savivaldybėse  
 Šiaurinėse ir pietinėse savivaldybėse  
 Sostinėje ir pietinėse savivaldybėse

Taškų skaičius už teisingą atsakymą: 1

#### Klausimas #36

\*\*Dėl kokių priežasčių Indijoje tėvai labiau geidžia susilaukti berniuko, o ne mergaitės?

- Mokslas mergaitėms brangiau kainuoja  
 Tik sūnūs gali atlikti laidotuvių apeigas  
 Ištekinti dukras brangiai kainuoja  
 To priežastis nėra paaiškinta  
 Po vestuvių dukros persikelia gyventi į vyrų šeimas

Taškų skaičius už teisingą atsakymą: 3

#### Klausimas #37

\*\*Kurie iš šių veiksnių sukelia gyventojų demografinį senėjimą?

- Didėjantis mirtingumas  
 Kylanti gyvenimo gerovė  
 Medicinos pažanga ir prieinamumas  
 Stabilus natūralusis gyventojų pokytis  
 Mokesčių didinimas  
 Mažėjantis gimstamumas

Taškų skaičius už teisingą atsakymą: 3

#### Klausimas #38

\*\*Atsakykite į klausimus apie Indijos demografiją.

- |   |  |
|---|--|
| 1. Nuo 2000 m. Indijoje yra vykdoma vieno vaiko šeimos politika.                          | <input type="radio"/> taip <input checked="" type="radio"/> ne |
| 2. Indijoje vaikų yra daugiau nei pensinio amžiaus žmonių.                                | <input checked="" type="radio"/> taip <input type="radio"/> ne |
| 3. Gimstamumas Indijoje mažėja pamažu, nes vaikai šeimoms yra reikalingi kaip darbo jėga. | <input checked="" type="radio"/> taip <input type="radio"/> ne |
| 4. Vidutinė tikėtina gyvenimo trukmė Indijoje nuo XX a. vidurio sumažėjo.                 | <input type="radio"/> taip <input checked="" type="radio"/> ne |

Taškų skaičius už teisingą atsakymą: 4

#### Klausimas #39



\*Sparčiausiai pasaulyje gyventojų daugėja ekonomiškai besivystančiose šalyse.

- Taip  
 Ne

*Taškų skaičius už teisingą atsakymą: 1*

#### Klausimas #40



\*\*Kuriuose pasaulio regionuose gyventojų tankis yra didžiausias?

- Pietų Afrikoje  
 Rytų Azijoje  
 Gvinėjos įlankos šalyse  
 Centrinėje Amerikoje  
 Pietų Azijoje

*Taškų skaičius už teisingą atsakymą: 3*

#### Klausimas #41



\*Kuriose iš šių šalių gimstamumas yra labai didelis?

- Italijoje  
 Angoloje  
 Malyje

- JAV  
 Šveicarijoje  
 Nigerijoje

Taškų skaičius už teisingą atsakymą: 3

#### Klausimas #42

\*\*Kokiomis priemonėmis įgyvendinama valstybių demografinė politika?

- Saugant papročius ir tradicijas  
 Saugant materialines vertybes  
 Reguluojant gyventojų skaičių ir migraciją  
 Išlaikant administracinį vientisumą

Taškų skaičius už teisingą atsakymą: 1

#### Klausimas #43

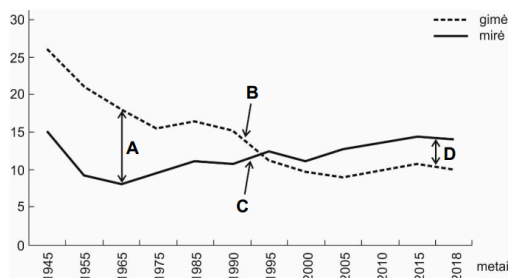
\*\*\*2022 m. Australijoje gimė 300 684 vaikai. Apskaičiuokite tų metų gimstamumą (Australijos gyventojų skaičius 26,01 mln.).

- 0,01‰  
 86,5‰  
 11,6‰  
 0,09‰

Taškų skaičius už teisingą atsakymą: 1

#### Klausimas #44

Lietuvos gyventojų gimstamumas ir mirtingumas tūkstančiui žmonių (1945–2018 m.)



\*Kuria raide grafike pažymėtas neigiamas gyventojų prieaugis?

- D  
 C  
 B  
 A

Taškų skaičius už teisingą atsakymą: 1

#### Klausimas #45



\*Kuriame pasaulio regione gyvena didžiausia planetos žmonių dalis?

- Vakarų Europoje

- Pietų Amerikoje
- Azijoje
- Užsacharės Afrikoje

Taškų skaičius už teisingą atsakymą: 1

#### Klausimas #46

---



\*Kokios yra pagrindinės Lietuvos gyventojų demografinio senėjimo priežastys?

- Mažėjantis gimstamumas ir didėjantis mirtingumas
- Ilgėjanti vidutinė tikėtina gyvenimo trukmė ir mažėjanti imigracija
- Mažėjantis gimstamumas ir ilgėjanti vidutinė tikėtina gyvenimo trukmė
- Didėjanti emigracija ir mažėjanti imigracija

Taškų skaičius už teisingą atsakymą: 1

#### Klausimas #47

---



\*Koks ryšys tarp pasaulio gyventojų pasikirstymo ir atstumo nuo jūrų ir vandenynų?

- Tolstant nuo jūros ar vandenyno, gyventojų tankis nesikeičia
- Atstumas nuo jūros ir vandenyno neturi poveikio gyventojų tankiui
- Tolstant nuo jūros ar vandenyno, gyventojų tankis didėja
- Tolstant nuo jūros ar vandenyno, gyventojų tankis mažėja

Taškų skaičius už teisingą atsakymą: 1

#### Klausimas #48

---

\*\*Kuriems dviem pasaulio regionams yra būdinga trečioji demografinė pakopa?

- Rytų Azijai ir Rytų Europai
- Lotynų Amerikai ir Okeanijai
- Vidurio Azijai ir Vakarų Europai
- Šiaurės ir Pietų Afrikai

Taškų skaičius už teisingą atsakymą: 1

**Klausimas #49**

---



\*\*Kokios esminės informacijos suteikia šis dalies Europos palydovinis vaizdas?

- Apie automobilių kiekį regionuose
- Apie Europos reljefą
- Apie gyventojų pasiskirstymą
- Apie oro uostų pasiskirstymą

*Taškų skaičius už teisingą atsakymą: 1*

**Klausimas #50**

---

\*Kiek yra pakopų demografinės raidos modelyje?

- 5
- 7
- 8
- 4
- 3

*Taškų skaičius už teisingą atsakymą: 1*

**Klausimas #51**

---





\*Koks procesas apibūdinamas pasakymu demografinis sprogimas?

- Staigus ir spartus gyventojų skaičiaus mažėjimas
- Staigus imigrantų antplūdis į daugelį šalių
- Didelis skirtumas tarp vaikų ir senyvo amžiaus gyventojų dalies
- Staigus ir spartus gyventojų skaičiaus augimas

*Taškų skaičius už teisingą atsakymą: 1*